

❄️ Chapitre 7 ❄️

Géométrie vectorielle dans l'espace

I. Vecteurs de l'espace

1. Translations

❄️ Définition 1:

Soient A et B deux points distinct de l'espace. La translation t de vecteur \vec{AB} est la transformation qui, à tout point C , associe un unique point D tel que $\vec{CD} = \vec{AB}$.

🔴 Propriété 1 :

Soient A et B deux points de l'espace, \vec{u} un vecteur de l'espace et t la translation de vecteur \vec{u} . On note A' et B' les images respectives de A et B par la translation t . On a alors $\vec{A'B'} = \vec{AB}$

🔴 Démonstration :

Propriété à démontrer : « A' et B' les images de A et B par la translation t de vecteur \vec{u} . On a $\vec{A'B'} = \vec{AB}$ »

On note $t: A \rightarrow A'$ la translation de vecteur \vec{u} ; autrement dit $t(A) = A' \iff \vec{AA'} = \vec{u}$.

De même, $t(B) = B' \iff \vec{BB'} = \vec{u}$.

D'après la relation de Chasles, on a : $\vec{A'B'} = \vec{A'A} + \vec{AB} + \vec{BB'} = -\vec{u} + \vec{AB} + \vec{u} = \vec{AB}$ ■

2. Vecteur colinéaires, vecteurs coplanaires

❄️ Définition 2:

Deux vecteurs \vec{u} et \vec{v} sont colinéaires si, et seulement si, il existe un nombre réel λ tel que

$$\vec{v} = \lambda \vec{u}$$

🔴 Propriété 2 :

Trois points A , B et C de l'espace deux à deux distinct sont alignés si, et seulement si, les vecteurs \vec{AB} et \vec{AC} sont colinéaires.

Les droites (AB) et (CD) sont parallèles si, et seulement si, les vecteurs \vec{AB} et \vec{CD} sont colinéaires.

🔴 Démonstration :

Propriété à démontrer : « Trois points A , B et C de l'espace deux à deux distinct sont alignés si, et seulement si, les vecteurs \vec{AB} et \vec{AC} sont colinéaires. »

Les vecteurs \vec{AB} et \vec{AC} sont colinéaires, si et seulement si, les vecteurs \vec{AB} et \vec{AC} ont la même direction, c'est à dire, si et seulement si, (AB) et (AC) sont parallèles.

Or, A appartient à ces deux droites. Elles sont donc confondues, ce qui équivaut à dire que les points A , B , et C sont alignés. ■

❄️ Définition 3:

Dire que les vecteurs \vec{u} , \vec{v} et \vec{w} sont coplanaires signifie que pour un point O quelconque de l'espace, les points O , A , B et C définis par $\vec{OA} = \vec{u}$, $\vec{OB} = \vec{v}$ et $\vec{OC} = \vec{w}$ sont dans un même plan.

Propriété 3 :

\vec{u}, \vec{v} et \vec{w} sont des vecteurs de l'espace tels que \vec{u} et \vec{v} ne sont pas colinéaires.
 Les vecteurs \vec{u}, \vec{v} et \vec{w} sont coplanaires si, et seulement si, il existe des nombres réels λ et μ tels que :

$$\vec{w} = \lambda \vec{u} + \mu \vec{v}$$

Démonstration :

Propriété à démontrer : « \vec{u}, \vec{v} et \vec{w} sont coplanaires si, et seulement si $\vec{w} = \lambda \vec{u} + \mu \vec{v}$ »

\vec{u}, \vec{v} et \vec{w} sont des vecteurs de l'espace tels que \vec{u} et \vec{v} ne sont pas colinéaires.

On considère les points O, A, B et C définis par $\vec{OA} = \vec{u}, \vec{OB} = \vec{v}$ et $\vec{OC} = \vec{w}$.

(\Rightarrow) \vec{u} et \vec{v} ne sont pas colinéaires, donc les droites (OA) et (OB) ne sont pas parallèles. Elles sont donc sécantes en O . Les points O, A et B ne sont pas alignés.

On note R le projeté orthogonale de C sur (OA) parallèlement à (OB) . $R \in (OA)$ donc les points O, A et R sont alignés et les vecteurs \vec{OA} et \vec{OR} sont colinéaires. Il existe donc un réel λ tel que $\vec{OR} = \lambda \vec{OA}$.

Par construction, les droites (RC) et (OB) sont parallèles. Les vecteurs \vec{RC} et \vec{OB} sont donc colinéaires. Il existe alors un réel μ tel que $\vec{RC} = \mu \vec{OB}$.

Ainsi, il existe deux réels λ et μ tels que $\vec{w} = \vec{OC} = \vec{OR} + \vec{RC} = \lambda \vec{OA} + \mu \vec{OB} = \lambda \vec{u} + \mu \vec{v}$.

(\Leftarrow) \vec{u} et \vec{v} sont non colinéaires, donc $(O; \vec{OA}, \vec{OB})$ est un repère du plan.

Soit le point E du plan (OAB) de coordonnées $(\lambda; \mu)$ dans ce repère. On a $\vec{OE} = \lambda \vec{OA} + \mu \vec{OB}$. Or, $\vec{OE} = \vec{w}$ et comme O, A, B et E sont coplanaires alors les vecteurs \vec{u}, \vec{v} et \vec{w} le sont également. ■

Méthode 1 :

On considère une pyramide $ABCDE$ de sommet E dont la base est un parallélogramme $ABCD$. Soient $\vec{u} = \vec{AB}, \vec{v} = 2\vec{AD} + \vec{DE}$ et $\vec{w} = \vec{AC} + \vec{AE}$. Démontrer que les vecteurs \vec{u}, \vec{v} et \vec{w} sont coplanaires.

Pour démontrer que trois vecteurs \vec{u}, \vec{v} et \vec{w} sont coplanaires, il suffit de déterminer les réels λ, μ tels que $\vec{w} = \lambda \vec{u} + \mu \vec{v}$

Pour cela, on décompose le vecteur \vec{w} en utilisant le fait que $ABCD$ soit un parallélogramme et la relation de Chasles.

On a $\vec{w} = \vec{AC} + \vec{AE} = \vec{AB} + \vec{BC} + \vec{AE}$. Or, $ABCD$ est un parallélogramme donc $\vec{BC} = \vec{AD}$.

On a alors $\vec{w} = \vec{AB} + \vec{AD} + \vec{AD} + \vec{AE} = \vec{AB} + 2\vec{AD} + \vec{AE} = \vec{u} + \vec{v}$ donc les vecteurs sont coplanaires.

3. Vecteurs linéairement indépendants et base de l'espace

Définition 4:

Soient \vec{u}, \vec{v} et \vec{w} trois vecteurs de l'espace et a, b et c trois réels.

Les vecteurs \vec{u}, \vec{v} et \vec{w} sont dits linéairement indépendants lorsqu'il ne sont pas coplanaires, autrement dit lorsque $a\vec{u} + b\vec{v} + c\vec{w} = \vec{0} \implies a = b = c = 0$.

Définition 5:

Trois vecteurs linéairement indépendants forment une base de l'espace.

Propriété 4 :

Soit $(O; \vec{i}; \vec{j}; \vec{k})$ une base de l'espace. Pour tout vecteur \vec{w} de l'espace, il existe un unique triplet de réels $(x; y; z)$ tel que $\vec{w} = x\vec{i} + y\vec{j} + z\vec{k}$.

Cette décomposition est unique.

🔴 Démonstration :

Propriété à démontrer : « Pour tout vecteur \vec{w} de l'espace, il existe un unique triplet de réels $(x; y; z)$ tel que $\vec{w} = x\vec{i} + y\vec{j} + z\vec{k}$. »

Soient \vec{w} un vecteur de l'espace, O un point de l'espace et M le point tel que $\vec{w} = \vec{OM}$. On note M' le projeté de M sur le plan de repère $(O; \vec{i}; \vec{j})$ parallèlement à l'axe (Oz) .

On a $\vec{OM} = \vec{OM}' + \vec{MM}'$. Or \vec{MM}' et \vec{k} sont colinéaires donc il existe un unique réel x tel que $\vec{M'M} = x\vec{k}$. De plus, $\vec{OM}' = x\vec{i} + y\vec{j}$.

On a ainsi $\vec{OM} = \vec{OM}' + \vec{MM}' = x\vec{i} + y\vec{j} + z\vec{k}$, soit $\vec{w} = x\vec{i} + y\vec{j} + z\vec{k}$ ■

💡 Méthode 2 :

Dans la base $(O; \vec{i}; \vec{j}; \vec{k})$, on donne les vecteurs $\vec{u} = \vec{i} + \vec{j} + \vec{k}$, $\vec{v} = -\vec{i} + \vec{j}$ et $\vec{w} = \vec{i} + \vec{k}$. Déterminer les coordonnées des vecteurs \vec{u} , \vec{v} et \vec{w} puis montrer qu'ils sont linéairement indépendants. Que peut-on en déduire?

- Chacun des vecteurs est écrit en fonction de \vec{i} , \vec{j} et \vec{k} , on détermine donc directement les coordonnées en analysant les coefficients :

$$\vec{u} = \begin{pmatrix} 1 \\ 1 \\ 1 \end{pmatrix}, \quad \vec{v} = \begin{pmatrix} -1 \\ 1 \\ 0 \end{pmatrix} \quad \text{et} \quad \vec{w} = \begin{pmatrix} 1 \\ 0 \\ 1 \end{pmatrix}$$

- Pour montrer que les vecteurs sont linéairement indépendants, on résout le système associé à l'équation vectorielle $a\vec{u} + b\vec{v} + c\vec{w} = \vec{0}$, on doit obtenir $a = b = c = 0$:

$$a\vec{u} + b\vec{v} + c\vec{w} = \vec{0} \iff \begin{cases} a - b + c = 0 \\ a + b = 0 \\ a + c = 0 \end{cases} \iff \begin{cases} a = 0 \\ b = 0 \\ c = 0 \end{cases}$$

- On applique la définition : Les vecteurs \vec{u} , \vec{v} et \vec{w} sont linéairement indépendants. ils forment donc une base de l'espace.

II. Droites et plans de l'espace

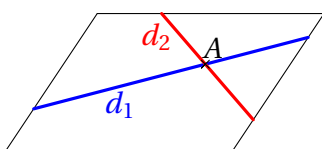
1. Droite de l'espace

❄️ Définition 6:

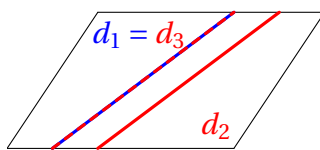
Soient A un point de l'espace et \vec{u} un vecteur non nul.
L'ensemble des points M tels que $\vec{AM} = \lambda\vec{u}$, avec $\lambda \in \mathbb{R}$, est une droite.
 $(A; \vec{u})$ est un repère de cette droite. On dit que la droite est dirigée par \vec{u} .

❄️ Définition 7: Position relative de deux droites

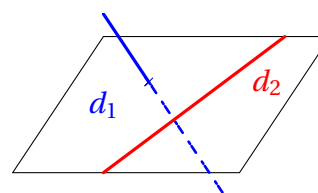
Dans l'espace, deux droites peuvent être coplanaires ou non.
Si elles sont coplanaires, alors elles appartiennent à un même plan. Elles peuvent être sécantes ou parallèles (strictement parallèles ou confondues).



Droites coplanaires sécantes :
un point d'intersection



Droites coplanaires parallèles :
aucun ou une infinité de points d'intersection



Droites non coplanaires :
aucun point d'intersection

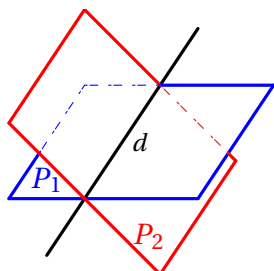
2. Plans de l'espace

❄ Définition 8:

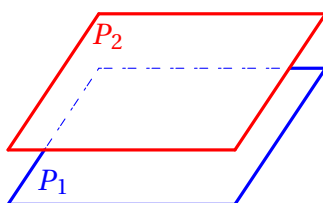
Soient A un point de l'espace, \vec{u} et \vec{v} deux vecteurs non colinéaires de l'espace.
L'ensemble des points M tels que $\overrightarrow{AM} = \lambda\vec{u} + \mu\vec{v}$, avec λ et μ des réels, est un plan de l'espace.
 $(A; \vec{u}; \vec{v})$ est un repère du plan. On dit que la droite est dirigé par la base $(\vec{u}; \vec{v})$.

❄ Définition 9: Position relative de deux plans

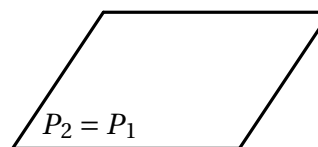
Plans sécants :
un droite d'intersection



Plans parallèles strictement :
aucun point d'intersection

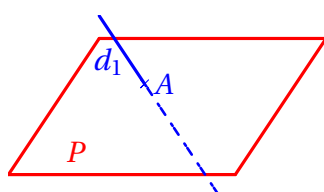


Plans parallèles confondus :
un plan d'intersection

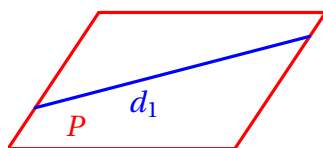


❄ Définition 10: Position relative de d'une droite et d'un plan

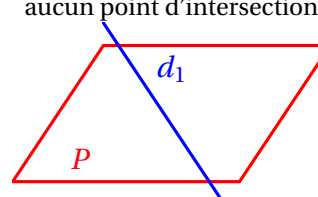
Droite et plan sécants :
un point d'intersection



Droite et plan parallèles :
droite incluse dans le plan



Droite et plan parallèles :
aucun point d'intersection



III. Parallélisme

1. Parallélisme d'une droite et d'un plan

🔴 Propriété 5 :

↪ Une droite d est parallèle à un plan \mathcal{P} si, et seulement si, il existe une droite Δ de \mathcal{P} est parallèle à d .

🔴 Démonstration :

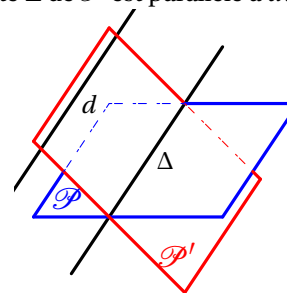
Propriété à démontrer : « Une droite d est parallèle à un plan $\mathcal{P} \iff$ il existe une droite Δ de \mathcal{P} est parallèle à d . »

Le résultat est évidant lorsque d est incluse dans \mathcal{P} .

Supposons que d n'est pas incluse dans \mathcal{P} .

(\Rightarrow) : On suppose que d est parallèle à \mathcal{P} . Soit un plan \mathcal{P}' , sécant à \mathcal{P} , contenant d et contenant un point A de \mathcal{P} . On note Δ leur intersection. Les droites d et Δ sont coplanaires car elles sont incluses dans \mathcal{P}' .

Supposons que d et Δ sont sécantes en un point B . $B \in \Delta$ donc $B \in \mathcal{P}$. or $B \in d$ donc $B \in B \cap d$, ce qui est contradictoire avec le fait que d et \mathcal{P} sont strictement parallèles. d et Δ ne sont pas sécantes : elles sont parallèles.

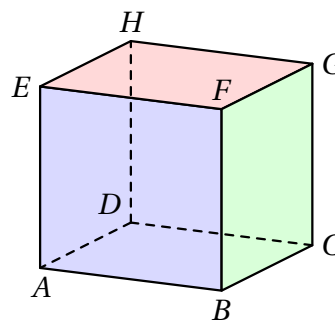


(\Leftarrow) : On suppose qu'il existe une droite Δ incluse dans \mathcal{P} telle que $d \parallel \Delta$. Notons \mathcal{P}' le plan contenant Δ et d et supposons que d et \mathcal{P} ne sont pas parallèles. Il existe alors un point R tel que $R \in d \cap \mathcal{P}$.

Ainsi, $R \in \mathcal{P} \cap \mathcal{P}'$, donc $R \in \Delta$, ce qui est contradictoire avec le fait que d et Δ sont strictement parallèles. ainsi d et \mathcal{P} ne sont pas sécants : ils sont donc parallèles. ■

Exemple 1:

Dans le cube ci-contre, on peut dire que la droite (AC) est parallèle au plan (EFH) car elle est parallèle à la droite $(EG) \in (EFH)$
 Avec la même méthode, on pourra montrer que la droite (AH) est parallèle au plan (BCG) , ou encore que la droite (EF) est parallèle au plan (AHG)



2. Parallélisme de deux plans

Propriété 6 :

Si un plan \mathcal{P} contient deux droites d et d' sécantes parallèles au plan \mathcal{P}' alors \mathcal{P} et \mathcal{P}' sont parallèles.

Démonstration :

Propriété à démontrer : « Si un plan \mathcal{P} contient deux droites d et d' sécantes parallèles au plan \mathcal{P}' alors \mathcal{P} et \mathcal{P}' sont parallèles. »

(\Rightarrow) : Admis

(\Leftarrow) : Soient d et d' deux droites sécantes de \mathcal{P} de vecteurs directeurs respectifs \vec{u} et \vec{v} .

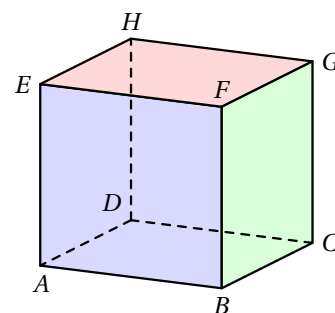
On note Δ et Δ' deux droites sécantes de \mathcal{P}' respectivement parallèles à d et d' .

(\vec{u}, \vec{v}) est donc une base de \mathcal{P} . Or d et d' sont parallèles à Δ et Δ' donc (\vec{u}, \vec{v}) est une base de \mathcal{P}' . Les plans ont donc la même direction et sont donc parallèles. ■

Exemple 2:

Dans le cube ci-contre, on peut dire que la droite (EG) et (EF) sont sécantes et parallèles aux droites (AC) et (AB) . Les plans (EHG) et (ADC) sont donc parallèles.

Avec la même méthode, on pourra montrer que le plan (EAH) est parallèle au plan (FGC) , ou encore que le plan (EAF) est parallèle au plan (DHC)



3. Parallélisme de deux droites

Propriété 7 :

Si deux plans sont parallèles alors tout plan sécant à l'un est sécant à l'autre et leurs intersections sont deux droites parallèles.

Démonstration :

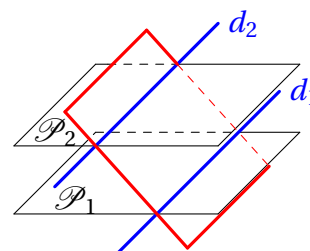
Propriété à démontrer : « Si deux plans sont parallèles alors tout plan sécant à l'un est sécant à l'autre et leurs intersections sont deux droites parallèles. »

Soit \mathcal{P} un plan sécant à P_1 distinct de P_1 .

Alors \mathcal{P} est également sécant à P_2 car sinon, on aurait $\mathcal{P} // P_2$ et $P_1 // P_2$ d'où $\mathcal{P} // P_1$, ce qui est absurde.

On note respectivement d_1 et d_2 les droites définies par $d_1 = \mathcal{P} \cap P_1$ et $d_2 = \mathcal{P} \cap P_2$.

Ces droites sont incluses dans \mathcal{P} donc elles sont soit parallèles, soit sécantes.



Si elles étaient sécantes, elles auraient un point d'intersection situé à la fois dans le plan P_1 et dans le plan P_2 , ce qui est impossible. Donc d_1 et d_2 sont parallèles. ■

Propriété 8 : *Théorème du toit*

Soient \mathcal{P}_1 et \mathcal{P}_2 deux plans sécants suivant une droite δ , si $d_1 \in \mathcal{P}_1$ et $d_2 \in \mathcal{P}_2$ sont deux droites parallèles alors la droite δ est parallèle aux droites d_1 et d_2 .

🔴 Démonstration :

Par hypothèse, les plans \mathcal{P}_1 et \mathcal{P}_2 sont sécants, donc leur intersection est une droite δ ; et les droites d_1 et d_2 sont parallèles.

Donc : $\mathcal{P}_1 \cap \mathcal{P}_2 = \delta$ et $d_1 // d_2$

Les droites d_1 et d_2 sont parallèles donc elles sont coplanaires.

Donc, il existe un plan \mathcal{P}_3 qui contient à la fois d_1 et d_2 .

Mais alors d_1 et δ sont contenues dans \mathcal{P}_1 ; et d_2 et δ sont contenues dans \mathcal{P}_2 .

Donc : $\mathcal{P}_1 \cap \mathcal{P}_3 = d_1$ et $\mathcal{P}_2 \cap \mathcal{P}_3 = d_2$

Montrons que $d_1 // \delta$:

Supposons que d_1 et δ ne soient pas parallèles.

Donc elles sont sécantes en un point A .

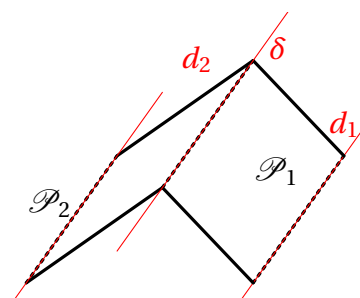
Comme $A \in d_1 \cap \delta$ donc $A \in d_1$ et $A \in \delta$.

- $A \in d_1$ et $d_1 = \mathcal{P}_1 \cap \mathcal{P}_3$ donc $A \in \mathcal{P}_3$.
- et $A \in \delta$ et $\delta = \mathcal{P}_1 \cap \mathcal{P}_2$ donc $A \in \mathcal{P}_2$. Ce qui donne, $A \in \mathcal{P}_2 \cap \mathcal{P}_3$.

Par conséquent : $A \in d_2$. Et comme $A \in d_1$, on en déduit que d_1 et d_2 sont sécantes en A . Ce qui est absurde, contraire à notre hypothèse.

Par conséquent les droites d_1 et δ sont parallèles. Et comme d_1 et d_2 sont parallèles, on en déduit que les droites d_2 et δ sont aussi parallèles.

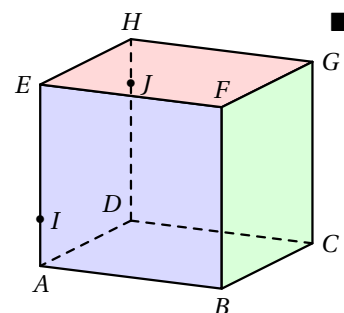
Conclusion : L'intersection de \mathcal{P}_1 et \mathcal{P}_2 est une droite δ parallèle à la fois à d_1 et d_2 .



💡 Méthode 3 :

Soient le cube $ABCDEFGH$ et les points I et J représentés sur la figure ci contre. Déterminer l'intersection des plans (IJF) et (DCG) .

Si deux plans sont sécants, alors leur intersection est une droite. On commence donc par chercher un point commun à ces deux plans ou un théorème à appliquer en fonction des hypothèses données par l'énoncé ou déterminées au cours de la résolution.



Les points I et F appartiennent aux plans (ABF) et (IJF) donc la droite (IF) est l'intersection de ces deux plans. Or le plan (DCG) est parallèle au plan (ABF) car $ABCDEFGH$ est un cube.

Par ailleurs, lorsque deux plans sont parallèles, tout plan qui coupe l'un coupe l'autre et les intersections sont parallèles. J appartient au plan (DCG) donc $J \in (IJF) \cap (DCG)$. Ainsi, la parallèle à (IF) passant par J est la droite d'intersection recherchée.

IV. Repère de l'espace

1. Coordonnées d'un point de l'espace

❄ Définition 11:

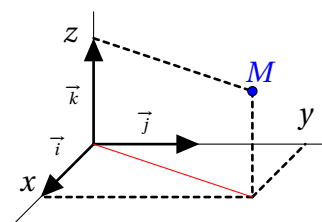
Un repère de l'espace est défini par la donnée d'un point O de l'espace et d'une base $(\vec{i}; \vec{j}; \vec{k})$ de l'espace.

❄ Définition 12:

On considère un repère $(O; \vec{i}; \vec{j}; \vec{k})$.

Pour tout point M de l'espace, il existe un unique triplet de réels $(x; y; z)$ tel que $\vec{OM} = x\vec{i} + y\vec{j} + z\vec{k}$.

x, y et z sont les coordonnées de M dans le repère $(O; \vec{i}; \vec{j}; \vec{k})$.



2. Opération sur les coordonnées

L'espace est rapporté à un repère $(O; \vec{i}; \vec{j}; \vec{k})$

Propriété 9 :

On considère les points $A(x_A; y_A; z_A)$ et $B(x_B; y_B; z_B)$.

Les coordonnées du vecteur \overrightarrow{AB} sont $\begin{pmatrix} x_B - x_A \\ y_B - y_A \\ z_B - z_A \end{pmatrix}$.

Démonstration :

Propriété à démontrer : « Les coordonnées du vecteur \overrightarrow{AB} sont $\begin{pmatrix} x_B - x_A \\ y_B - y_A \\ z_B - z_A \end{pmatrix}$. »

$$\overrightarrow{AB} = \overrightarrow{AO} + \overrightarrow{OB} = -\overrightarrow{OA} + \overrightarrow{OB} = -x_A \vec{i} - y_A \vec{j} - z_A \vec{k} + x_B \vec{i} + y_B \vec{j} + z_B \vec{k} = (x_B - x_A) \vec{i} + (y_B - y_A) \vec{j} + (z_B - z_A) \vec{k} \quad \blacksquare$$

Propriété 10 :

On considère les points $A(x_A; y_A; z_A)$ et $B(x_B; y_B; z_B)$.

Les coordonnées du milieu I de $[AB]$ sont $\left(\frac{x_A + x_B}{2}; \frac{y_A + y_B}{2}; \frac{z_A + z_B}{2}\right)$.

Démonstration :

Propriété à démontrer : « Les coordonnées du milieu I de $[AB]$ sont $\left(\frac{x_A + x_B}{2}; \frac{y_A + y_B}{2}; \frac{z_A + z_B}{2}\right)$. »

I est le milieu de $[AB]$. Ainsi, $\overrightarrow{AI} = \frac{1}{2} \overrightarrow{AB}$ et donc $\overrightarrow{AO} + \overrightarrow{OI} = \frac{1}{2} \overrightarrow{AB}$.

$$\begin{aligned} \overrightarrow{OI} &= \frac{1}{2} \overrightarrow{AB} - \overrightarrow{AO} = \frac{1}{2} \overrightarrow{OB} - \overrightarrow{AO} = \frac{1}{2} \overrightarrow{OA} + \frac{1}{2} \overrightarrow{OB} \\ &= \frac{1}{2} (x_A \vec{i} + y_A \vec{j} + z_A \vec{k}) + \frac{1}{2} (x_B \vec{i} + y_B \vec{j} + z_B \vec{k}) = \frac{x_A + x_B}{2} \vec{i} + \frac{y_A + y_B}{2} \vec{j} + \frac{z_A + z_B}{2} \vec{k} \end{aligned}$$

Donc $I\left(\frac{x_A + x_B}{2}; \frac{y_A + y_B}{2}; \frac{z_A + z_B}{2}\right)$ ■

Exemple 3 :

On considère les points $A(1; -1; 2)$ et $B(3; 1; -4)$.

$\overrightarrow{AB} \begin{pmatrix} 3-1 \\ 1-(-1) \\ -4-2 \end{pmatrix}$. Donc $\overrightarrow{AB} \begin{pmatrix} 2 \\ 2 \\ -6 \end{pmatrix}$. Et I milieu de $[AB]$ a pour coordonnées $\left(\frac{1+3}{2}; \frac{-1+1}{2}; \frac{2+(-4)}{2}\right)$. Donc $I(2; 0; -1)$

Propriété 11 :

On considère les vecteurs $\vec{u} \begin{pmatrix} x_u \\ y_u \\ z_u \end{pmatrix}$, $\vec{v} \begin{pmatrix} x_v \\ y_v \\ z_v \end{pmatrix}$ et α un nombre réel.

1. Les coordonnées du vecteur $\vec{u} + \vec{v}$ sont $\begin{pmatrix} x_u + x_v \\ y_u + y_v \\ z_u + z_v \end{pmatrix}$.

2. Les coordonnées du vecteur $a\vec{u}$ sont $\begin{pmatrix} ax_u \\ ay_u \\ az_u \end{pmatrix}$

Démonstration :

1. Propriété à démontrer : « $\vec{u} + \vec{v} \begin{pmatrix} x_u + x_v \\ y_u + y_v \\ z_u + z_v \end{pmatrix}$. »

$$\vec{u} + \vec{v} = x_u \vec{i} + y_u \vec{j} + z_u \vec{k} + x_v \vec{i} + y_v \vec{j} + z_v \vec{k} = (x_u + x_v) \vec{i} + (y_u + y_v) \vec{j} + (z_u + z_v) \vec{k} \quad \blacksquare$$

2. Propriété à démontrer : « $a \vec{u} \begin{pmatrix} ax_{\vec{u}} \\ ay_{\vec{u}} \\ az_{\vec{u}} \end{pmatrix}$ »

$$a \vec{u} = a(x_{\vec{u}} \vec{i} + y_{\vec{u}} \vec{j} + z_{\vec{u}} \vec{k}) = ax_{\vec{u}} \vec{i} + ay_{\vec{u}} \vec{j} + az_{\vec{u}} \vec{k}$$

■

💡 Méthode 4 :

Dans un repère $(O; \vec{i}; \vec{j}; \vec{k})$, on donne les points $E(-1; 3; 2)$, $F(2; -1; 3)$ et $G(-1; 0; 1)$. Déterminer les coordonnées du point M défini par $\vec{EM} = \vec{EF} + 2\vec{EG}$.

On pose $M(x; y; z)$. On détermine les coordonnées du vecteur \vec{EM} en fonction de x , y , et z et des coordonnées de \vec{EF} et \vec{EG} . On traduit l'égalité vectorielle de l'énoncé par un système.

On pose $M(x; y; z)$.

On a $\vec{EM} \begin{pmatrix} x - (-1) \\ y - 3 \\ z - 2 \end{pmatrix}$, $\vec{EF} \begin{pmatrix} 3 \\ -4 \\ 1 \end{pmatrix}$ et $\vec{EG} \begin{pmatrix} 0 \\ -3 \\ -1 \end{pmatrix}$.

D'après l'égalité vectorielle, $\begin{cases} x + 1 = 3 \\ y - 3 = -4 + 2 \times (-3) \\ z - 2 = 1 + 2 \times (-1) \end{cases}$ soit $\begin{cases} x = 2 \\ y = -7 \\ z = 1 \end{cases}$